

平成27年度 大阪信愛女学院高等学校 入学試験 解答用紙
 (社会科)

I

あ		い		う		え	
お		か					
問 1		問 2		問 3		問 4	問 5

II

あ		い		う		え	
お							
問 1		問 2	X		Y		
問 3		問 4	I	II	III	IV	V

III

問 1	あ	い		問 2	1	2
問 3		問 4	1	2		
問 5	1	2				

IV

問 1		問 2		問 3		問 4
問 5		問 6				

V

問 1	1	2		問 2	1	2
3			4		5	
問 3	1		2	問 4		

受験番号	得点

<社 会>

(問題5枚・解答1枚)

漢字で書けるものは漢字で記入しなさい。

I. つぎの文中の()内に適する語句を入れ、下線部の問いに答えなさい。

気候変動によって、森の木の上で生活していたサル的一种が(あ)歩行をはじめ、約500万年前にアフリカで人類の祖先が出現しました。これを(い)人といいます。(い)人は手を使って、簡単な(う)石器をつくりはじめました。

その後、登場した①原人は脳が発達し、(え)で意思や情報を伝え、毛皮をまとい(お)を使うことで寒さもしのげるようになりました。

そして、約20万年前になると②新人がアフリカに出現し、世界各国に広がって私たちの直接の祖先となりました。

日本列島にいつから人が住み始めたかは、いまだ確かではありませんが、遅くとも3万年前には、新人が日本列島にやってきました。そして、氷河期が終わる1万数千年ほど前に、人々は食物を煮炊きしたり保存したりするために土器をつくりました。これをその文様から(か)土器といい、この土器が使用されていた時期を(か)時代といいます。人々は堅穴住居をつくり、多くの住居からなる「むら」をかまえ、③食べ残した骨や貝殻などを捨てました。そこから出土する土器や石器などから④当時の人々の生活がわかります。発見された⑤三内丸山遺跡はこの当時の巨大な集落跡です。

問1. 下線部①について、中国で発見された代表的な原人は何原人ですか。正しいものを語群から1つ選び、記号で答えなさい。

<語群> (ア) 北京 (イ) 南京 (ウ) 香港 (エ) 上海

問2. 下線部②について、新人が描いた代表的な洞くつ壁画はフランスのどこにありますか。正しいものを語群から1つ選び、記号で答えなさい。

<語群> (ア) モヘンジョ・ダロ (イ) メッカ (ウ) ラスコ (エ) アテネ

問3. 下線部③が積もったあとを、漢字2字で何といいますか。

問4. 下線部④について、豊かな自然の恵みや、子孫繁栄を祈るために、女性をかたどった人形がよく作られました。それを漢字2字で何といいますか。

問5. 下線部⑤はどこにありますか。正しいものを語群から1つ選び、記号で答えなさい。

<語群> (ア) 秋田県 (イ) 熊本県 (ウ) 大分県 (エ) 青森県

Ⅱ. 次の年表の () 内に適する語句と数字を入れ、問いにも答えなさい。

- 1853 (あ) が黒船を率いて浦賀沖に来航する
 1854 ① 日米和親条約 が結ばれる
 1858 ② 日米修好通商条約 が結ばれる
 安政の大獄 … < I > や橋本左内らが処刑される
 1860 桜田門外の変 … 大老 < II > が暗殺される
 1866 (い) 同盟が結ばれる … 土佐藩の < III > の仲介で薩摩藩と長州藩が同盟を結ぶ
 1867 (う) 奉還 … 将軍 < IV > が朝廷に政権を返上
 朝廷は (え) 復古の大号令を発す
 (お) 五箇条の御誓文が出される
 1871 ③ _____
 1872 < V > が『学問のすゝめ』を出版する

問1. 下線部①の条約の結果、開港したのは函館とどこですか。正しいものを語群から1つ選び、記号で答えなさい。

<語群> (ア) 長崎 (イ) 下田 (ウ) 兵庫 (エ) 新潟

問2. 下線部②の条約の内容について、次の文中の (X) と (Y) に適する語句を答えなさい。

この条約は、日本で罪を犯した外国人をその国の領事がさばく (X) を認め、輸入品に対して自由に関税をかける (Y) を日本に認めないなど、不平等なものでした。

問3. 下線部③に適するものを語群から1つ選び、記号で答えなさい。

<語群> (ア) 廃藩置県をおこなう
 (イ) 韓国を併合する
 (ウ) 地租改正をおこなう
 (エ) 西南戦争がおこる

問4. 年表中の < > に適する人物を語群から1つずつ選び、記号で答えなさい。

<語群> (ア) 西郷隆盛 (イ) 井伊直弼 (ウ) 徳川吉宗 (エ) 阿部正弘
 (オ) 福沢諭吉 (カ) 中江兆民 (キ) 岩倉具視 (ク) 徳川慶喜
 (ケ) 吉田松陰 (コ) 木戸孝允 (サ) 坂本龍馬 (シ) 大久保利通

Ⅲ. つぎの文章を読んで、問いに答えなさい。

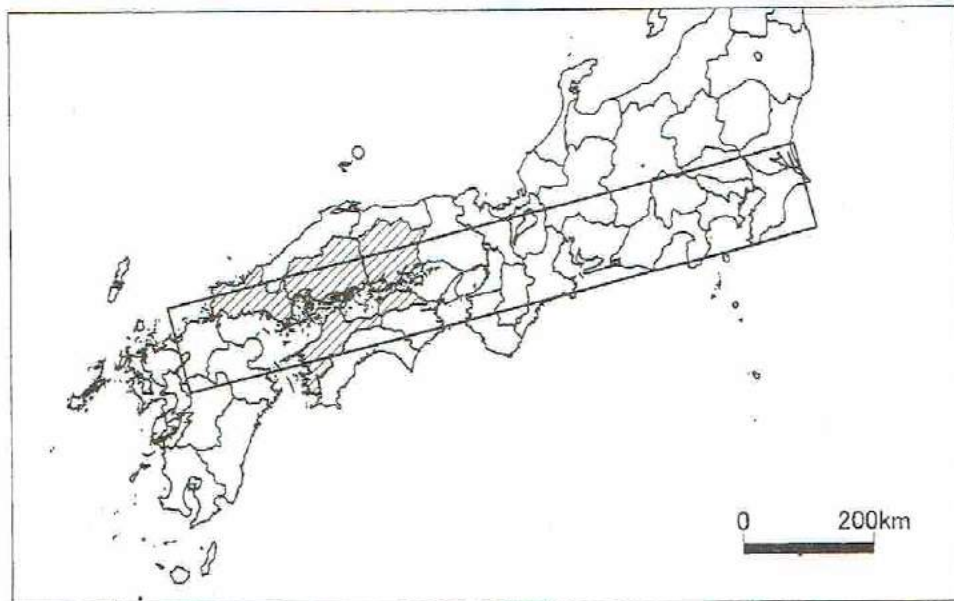
①日本の工業は、原料を輸入して高い技術力で製品をつくり輸出する (あ) 貿易によって発展してきた。1980年代後半になると、②日本企業の海外進出がさかんになり、海外に工場をつくり、現地の人をやって生産するようになった。近年は、③中国や④東南アジアに工場をつくって製品を輸出することが増え、国内の産業の (い) 化が心配されている。

問1. 文中の (あ) と (い) に適する語句を、それぞれ漢字2字で答えなさい。

問2. 下線部①について、問いに答えなさい。

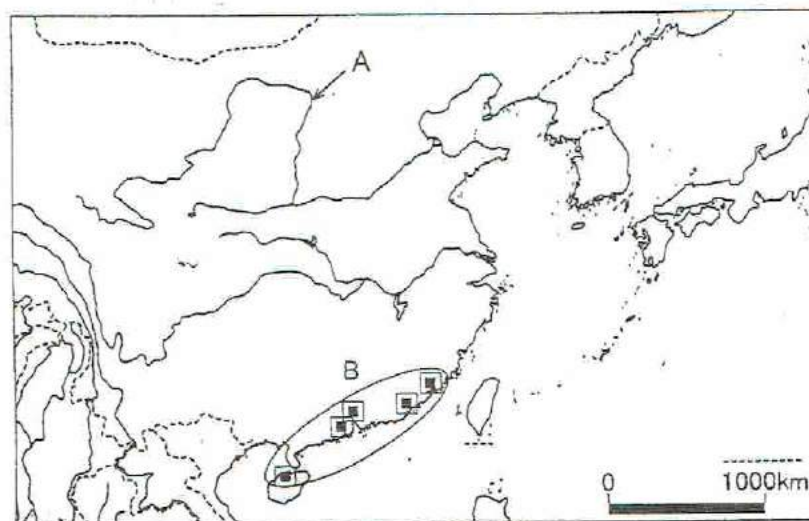
(1) 下の地図の  の工業地域の名称を答えなさい。

(2) 下の地図の  で示された工業地帯・工業地域が帯状になる地域を何とといいますか。



問3. 下線部②について、世界各国で生産や販売をおこなっている企業を何とといいますか。

問4. 下線部③について、下の地図を見て、問いに答えなさい。



(1) Aの河川を何とといいますか。

(2) 外国企業の資本や技術を導入するために、Bの地域に設けられた  で示された地区を何とといいますか。

問5. 下線部④について、問いに答えなさい。

(1) 東南アジアの経済協力を目的に1967年に発足した組織を何とといいますか。語群から1つ選び、記号で答えなさい。

<語群> (ア) OPEC (イ) ASEAN (ウ) アジアNIEs (エ) BRICs

(2) 植民地時代につくられた大農園で、輸出向けにゴムやコーヒーなどを大規模に栽培する農場を何とといいますか。

IV. つぎの地図を見て、問いに答えなさい。

問1. ①について、九州地方はIC工場が多いことから、何と呼ばれていますか。

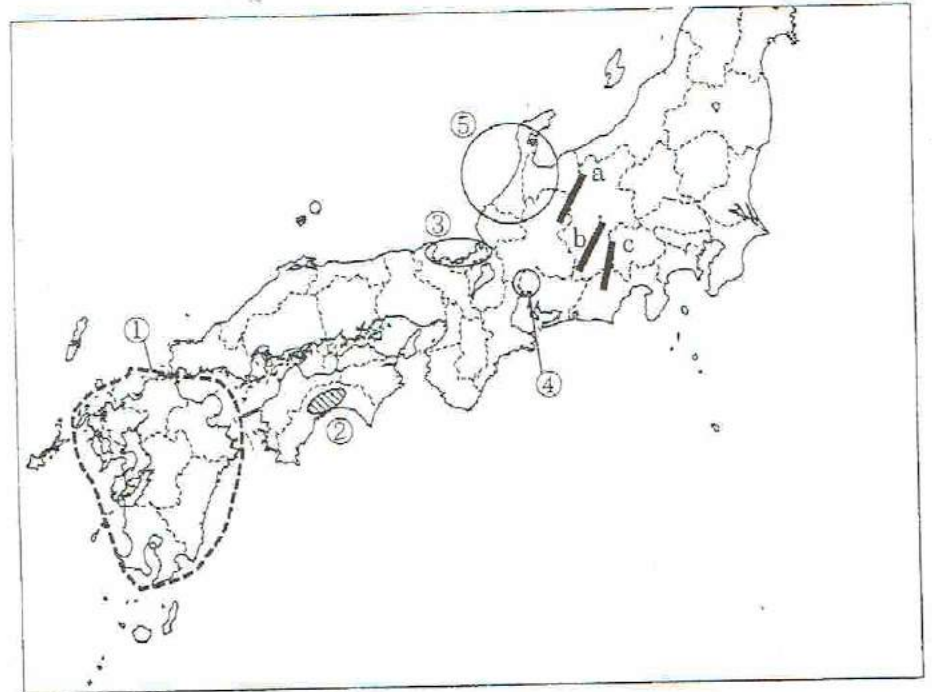
問2. ②の平野で、ビニールハウスなどを用いて行われる野菜の栽培方法を何といいますか。

問3. ③の地域にみられる、入り組んだ海岸地形を何といいますか。

問4. ④の平野を流れる川の下流にみられる、堤防で囲まれた低湿な地域を何といいますか。

問5. ⑤について、北陸地方では輪島塗や加賀友禅などがつくられています。このような産業を何といいますか。

問6. 地図中 a・b・c は日本アルプスを形成する山脈です。a・b・c と山脈の組み合わせとして正しいものを1つ選び、記号で答えなさい。



- | | | |
|--------------|----------|----------|
| (ア) a : 赤石山脈 | b : 木曾山脈 | c : 飛騨山脈 |
| (イ) a : 赤石山脈 | b : 飛騨山脈 | c : 木曾山脈 |
| (ウ) a : 木曾山脈 | b : 赤石山脈 | c : 飛騨山脈 |
| (エ) a : 木曾山脈 | b : 飛騨山脈 | c : 赤石山脈 |
| (オ) a : 飛騨山脈 | b : 赤石山脈 | c : 木曾山脈 |
| (カ) a : 飛騨山脈 | b : 木曾山脈 | c : 赤石山脈 |

V. つぎの文章を読んで問いに答えなさい。

1947年5月3日に施行された日本国憲法は、①国民主権・②基本的人権の尊重・平和主義の3つを原理としている。

また、日本では立法・行政・③司法の④三権はそれぞれ分立しており、互いに抑制し合い均衡を保っている。

問1. 下線部①について、問いに答えなさい。

(1) つぎの文中の () に適する語句を語群から1つ選び、記号で答えなさい。

天皇には政治的な権限はなく、形式的・儀礼的な国事行為のみを行う。これらは () の助言と承認の下に行われる。

<語群> (ア) 内閣 (イ) 国会 (ウ) 裁判所

(2) 「国民主権は選挙で正当に選ばれた代表者により実現される。」に関して、誤っているものを(ア)～(エ)から1つ選び、記号で答えなさい。

- (ア) 議員数は、現在衆議院475名、参議院242名である。
- (イ) 内閣総理大臣の指名には、衆議院の優越が認められている。
- (ウ) 衆議院の方が参議院より任期も短く、解散もある。
- (エ) 内閣不信任案は、衆議院か参議院のどちらかの議決で決まる。

問2. 下線部②について、問いに答えなさい。

- (1) 基本的人権には、自由権・平等権・社会権・参政権などがあります。つぎのうち自由権にあてはまるものを(ア)～(エ)から1つ選び、記号で答えなさい。

- (ア) 資格はないが、医師として病人の治療にあたった。
- (イ) 新聞は人々に与える影響が大きいため、まず国がその内容を^{ひんまつ}検閲することができる。
- (ウ) 現行犯を除いて裁判所が発行する逮捕状がなければ、警察官により逮捕されない。
- (エ) 私たちは、健康で快適な環境で暮らす権利を持っている。

- (2) つぎの文中の()に適する語句を答えなさい。

女性がより広く活躍できる社会をめざし、1985年に男女雇用機会均等法が、1999年には()法がそれぞれ制定された。

- (3) 高齢者や障がいを持つ人が暮らしやすい社会の実現を目指して、スロープをつくったり、駅にエレベーターを設置するなど、利用しやすいように配慮することを何といいますか。

- (4) つぎの文中の()に適する語句を答えなさい。

基本的人権が侵害されたり、不利益な扱いを受けた時には、国に対して救済を求める権利が保障されている。これを()権という。

- (5) つぎの文中の()に適する語句を答えなさい。

憲法第18条で、生命・自由及び幸福の追求に対する国民の権利については()に反しない限り、立法、その他の国政の上で最大の尊重を必要とするとされている。

問3. 下線部③について、問いに答えなさい。

- (1) つぎの文中の()に適する語句を答えなさい。

2009年から国民が裁判に参加する()制度が始まった。

- (2) つぎの文章を読んで、正しいものを(ア)～(エ)から1つ選び、記号で答えなさい。

- (ア) 裁判官の身分は保障されており、国民審査で不適任とされてもやめさせられない。
- (イ) お金の貸借、土地の売買などをめぐってのもめごとは民事裁判と呼ばれ、訴えた側を原告という。
- (ウ) 地方裁判所での第一審の判決に不服ならば、高等裁判所に上告し、さらに最高裁判所に控訴できる。
- (エ) 違憲立法審査権は、法律が憲法に違反していないかを判断するもので、それは最高裁判所のみがもつ。

問4. 下線部④について、三権分立を主張し『法の精神』を著したのは誰ですか。